

Je consolide mes connaissances

1 Tu as reçu des cartes avec des figures.
Écris le numéro de la figure qui correspond au message.

Je suis un carré.
Mes côtés mesurent 4 cm.

.....

Mes 4 côtés mesurent 5 cm,
mais je ne suis pas un carré.

.....

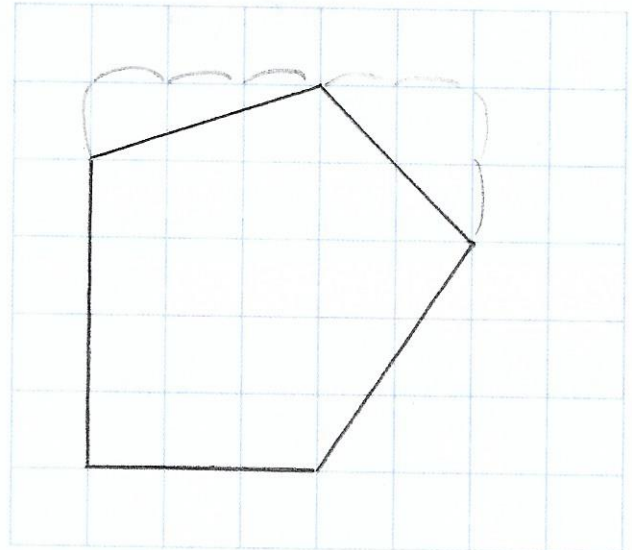
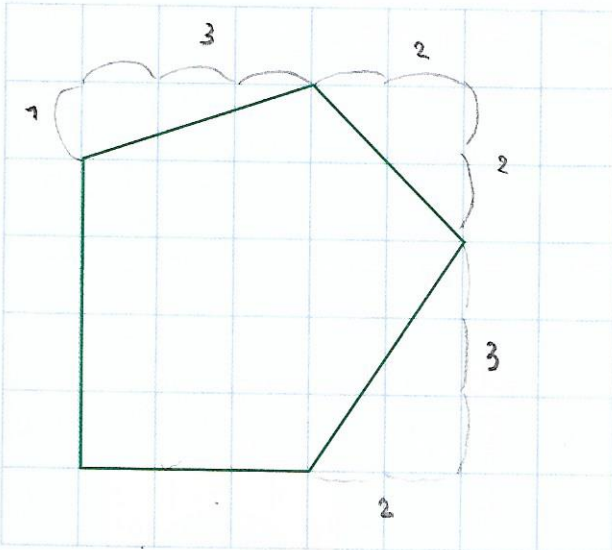
Je suis un polygone.
Je n'ai que 2 angles droits.
Un de mes côtés mesure 4 cm.

.....

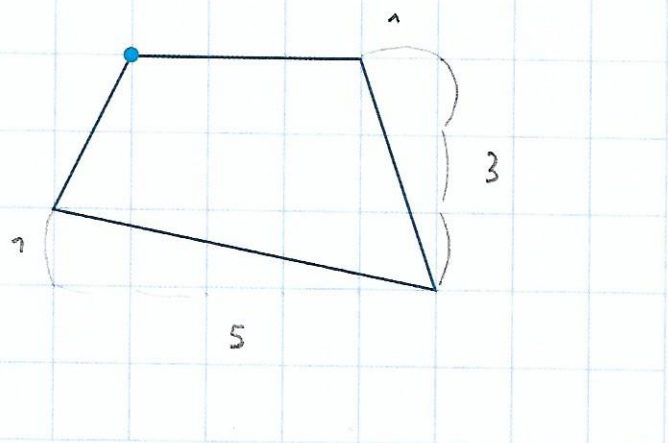
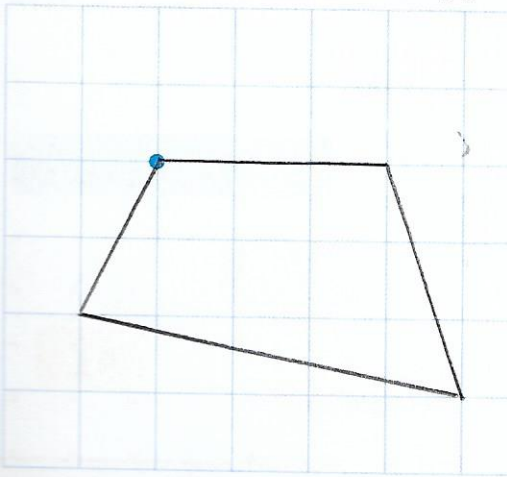
Je suis un triangle.
Je n'ai pas d'angles droits. Un seul
de mes côtés mesure 6 cm.

.....

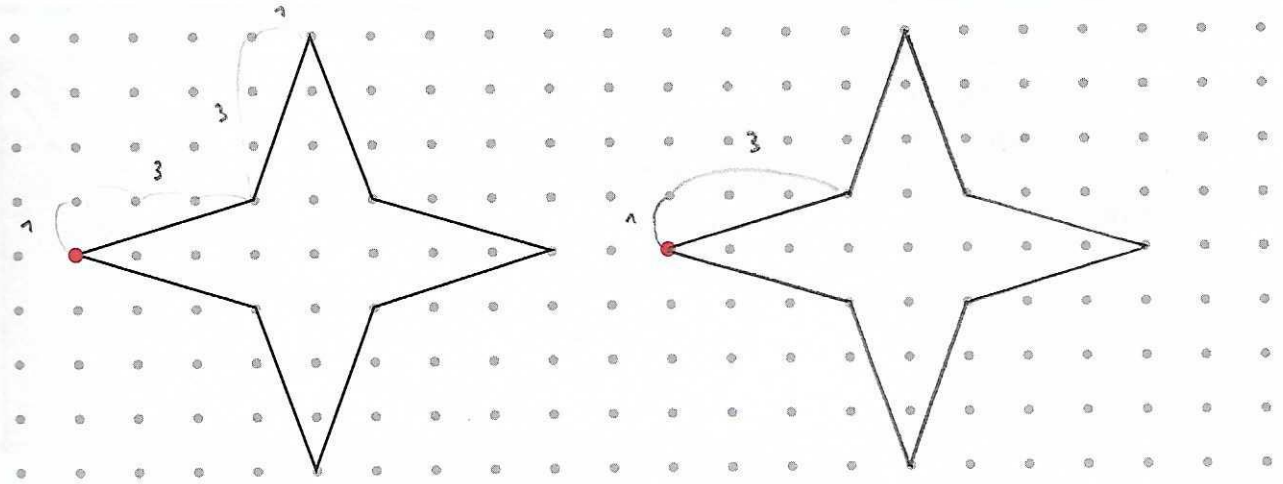
2 Avec la règle, reproduis le polygone dans le quadrillage de droite.



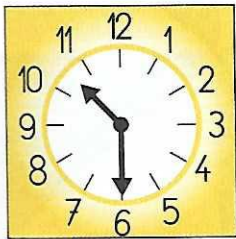
3 Avec la règle, reproduis le polygone à partir du point bleu.



4 Avec la règle, reproduis le polygone à partir du point rouge.



5 Entoure les horaires qui correspondent à l'horloge.



11 h

11 h 30

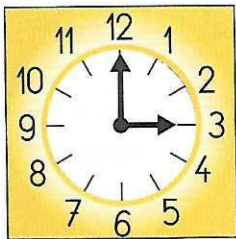
6 heures

10 h


10 h 30

10 heures et demie

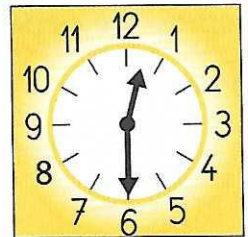
6 Complète.



Il est 3 h




Il est 8 h 30




Il est 12 h 30


7 Dessine l'aiguille qui manque sur chaque horloge.



Il est 10 heures.



Il est 4 heures.



Il est 2 heures et demie.