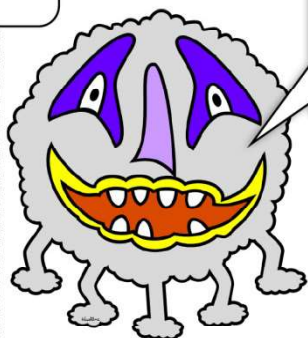



Enigmes du 24 au 27 mars

Enigme du mardi 24 mars



J'ai photographié, ce matin, 7 têtes et 20 pattes.
Combien de fois ai-je photographié Gavroche
et Hypolite.







Enigme du jeudi 26 mars



Dans la boîte de Irène il y a 15 balles, des rouges et des bleues. Il y a 2 fois plus de balles rouges (le double) que de bleues. Colorie les balles.



Enigme du vendredi 27 mars

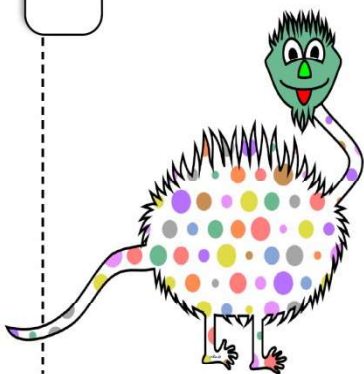


Aide Hypolite à retrouver le prix de chaque objet.









$$\text{toy} + \text{toy} + \text{toy} = 9 \text{ €}$$

$$\text{toy} + \text{toy box} + \text{toy} = 10 \text{ €}$$

$$\text{toy} + \text{toy box} = 5 \text{ €}$$